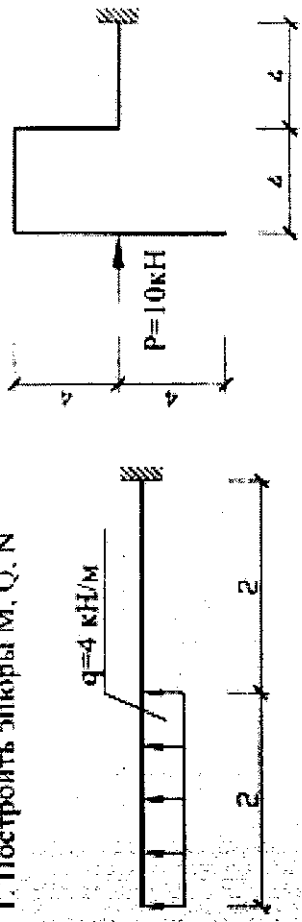
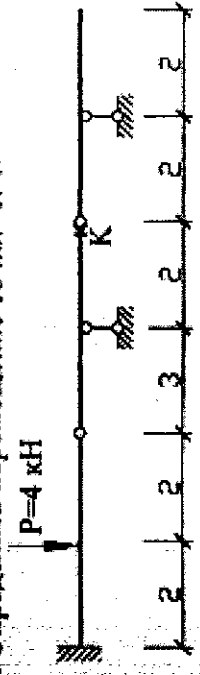


1. Построить эпюры M, Q, N

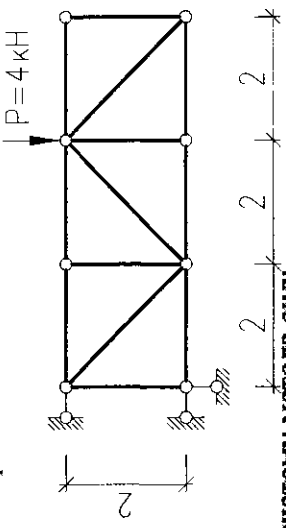


2. Определить перемещение точки "K".



3. Определить усилия в отмеченных стержнях.

Показать "нулевые стержни".



4. Выбрать основную систему метода сил.

а) построить единичные эпюры. б) построить эпюры M, Q, N .

